

# たしさんの れんしゅう①

がつ

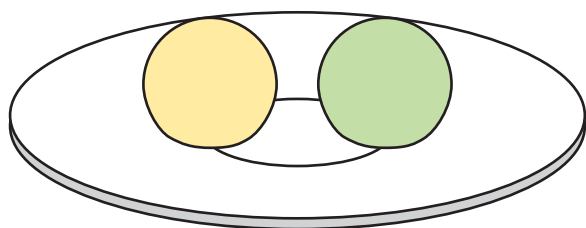
なまえ

にち



おさらに きびだんご が

**2**こ あります。



ももたろうさんに

**1**こ もらいました。



きびだんご は あわせて なんこ ありますか？

きびだんご は

こ あります。

# たしざんの れんしゅう②

がつ

なまえ

にち



すうじをなぞりましょう(かきましょう)。

1	2	3	4	5	6	7	8	9	10
---	---	---	---	---	---	---	---	---	----



たしざんをしましょう。

$$1 + 1 = \square \quad 1 + 2 = \square$$

$$2 + 1 = \square \quad 2 + 2 = \square$$

$$3 + 1 = \square \quad 3 + 2 = \square$$

$$4 + 1 = \square \quad 4 + 2 = \square$$

# たしざんの れんしゅう③

がつ

なまえ

にち



たしざんをしましょう。

$5 + 1 = \square$

$5 + 2 = \square$

$3 + 3 = \square$

$5 + 3 = \square$

$6 + 1 = \square$

$3 + 4 = \square$

$4 + 4 = \square$

$7 + 2 = \square$

$8 + 1 = \square$

$5 + 4 = \square$

# たしざんの れんしゅう④

がつ

なまえ

にち



たしざんをしましょう。

$10 + 1 = \square \quad 11 + 2 = \square$

$13 + 1 = \square \quad 12 + 2 = \square$

$15 + 1 = \square \quad 14 + 2 = \square$

$17 + 1 = \square \quad 16 + 2 = \square$

$18 + 1 = \square \quad 17 + 2 = \square$

# おかねは いくら!?①

がつ

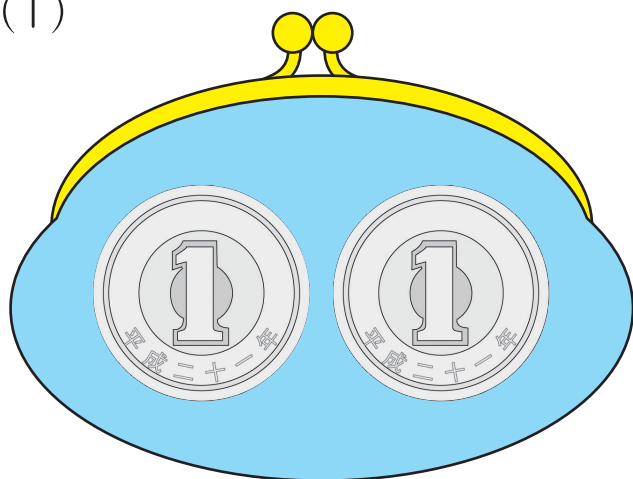
なまえ

にち



さいふにおかねはいくらありますか。

(1)



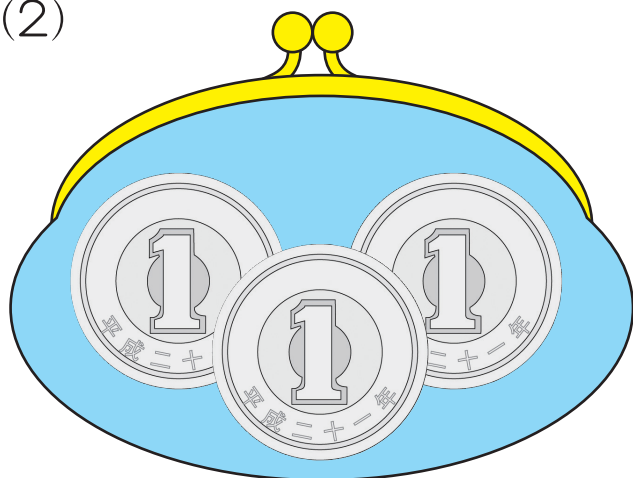
1えんだまが

まいあります。

おかねはあわせて

えんあります

(2)



1えんだまが

まいあります。

おかねはあわせて

えんあります

# おかねは いくら!? ②

がつ

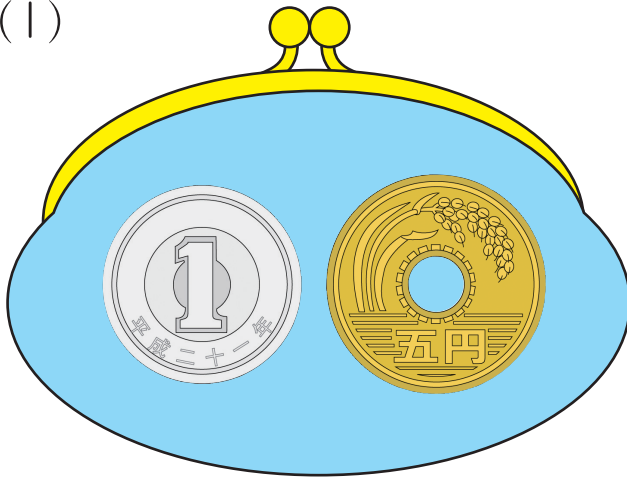
なまえ

にち



さいふにおかねはいくらありますか。

(1)



1 えんだまが

5 えんだまが




まい

まい

おかねはあわせて

えん あります

(2)



5 えんだまが

10 えんだまが



まい

まい

おかねはあわせて

えん あります

# こたえあわせ

## たしざんの れんしゅう①

おさらに きびだんごが  
2こあります。



ももたろうさんに  
1こもらいました。  
きびだんごはあわせてなんこありますか？

きびだんごは **3**こあります。

## たしざんの れんしゅう②

すうしをなぞりましょう(かきましよう)。

1 2 3 4 5 6 7 8 9 10

たしざんをしましょう。

$$1 + 1 = 2 \quad 1 + 2 = 3$$

$$2 + 1 = 3 \quad 2 + 2 = 4$$

$$3 + 1 = 4 \quad 3 + 2 = 5$$

$$4 + 1 = 5 \quad 4 + 2 = 6$$

## たしざんの れんしゅう③

たしざんをしましょう。

$$5 + 1 = 6 \quad 5 + 2 = 7$$

$$3 + 3 = 6 \quad 5 + 3 = 8$$

$$6 + 1 = 7 \quad 3 + 4 = 7$$

$$4 + 4 = 8 \quad 7 + 2 = 9$$

$$8 + 1 = 9 \quad 5 + 4 = 9$$

## たしざんの れんしゅう④

たしざんをしましょう。

$$10 + 1 = 11 \quad 11 + 2 = 13$$

$$13 + 1 = 14 \quad 12 + 2 = 14$$

$$15 + 1 = 16 \quad 14 + 2 = 16$$


$$17 + 1 = 18 \quad 16 + 2 = 18$$

$$18 + 1 = 19 \quad 17 + 2 = 19$$

## 32 おかねは いくら!?①

さいふにおかねはいくらありますか。

(1)



1えんだまが

**2**

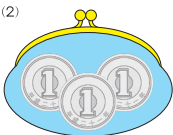
まいあります。

おかねはあわせて

**2**

えんあります

(2)



1えんだまが

**3**

まいあります。

おかねはあわせて

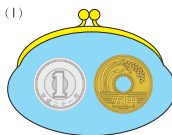
**3**

えんあります

## 33 おかねは いくら!?②

さいふにおかねはいくらありますか。

(1)



1えんだまが

**1**

まい

5えんだまが

**1**


まい

おかねはあわせて

**6**

えんあります

(2)



5えんだまが

**1**

まい

10えんだまが

**1**

まい

おかねはあわせて

**15**

えんあります